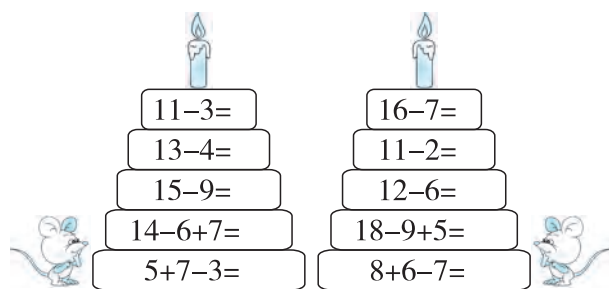


第一单元自测卷

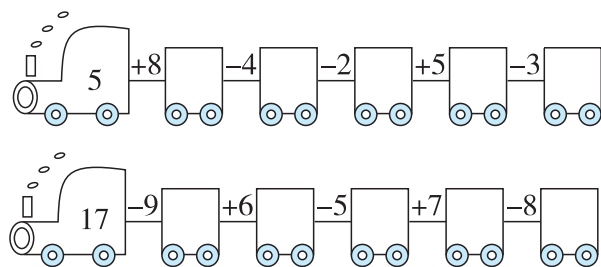
(时间:40 分钟 满分:100 分)

一、填一填。(每空 1 分,共 40 分)

1. 小老鼠上烛台。



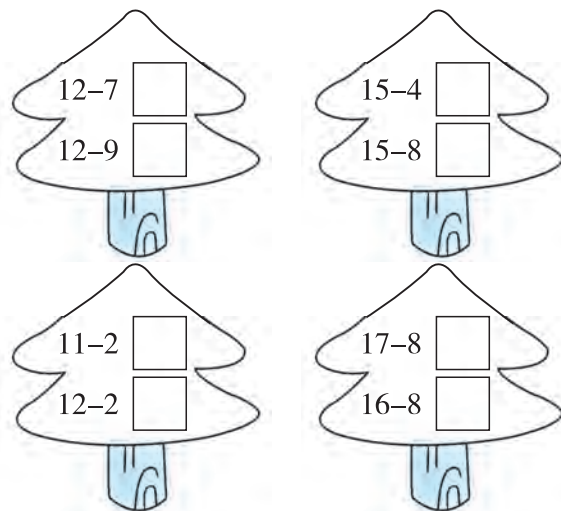
2. 开火车。



3. 在 里填“>”“<”或“=”号。

$$\begin{array}{ll} 11-4 \text{ } 8 & 15-6 \text{ } 7 \\ 5 \text{ } 17-9 & 16-7 \text{ } 14-9 \\ 6 \text{ } 13-7 & 14-9 \text{ } 12-7 \end{array}$$


4. 在每组得数小的算式后面打“√”。



5. 在 里填上适当的数。

$$\begin{array}{ll} 9 + \square = 12 & 15 - \square = 7 \\ \square + 7 = 14 & \square - 2 = 7 \\ 8 + \square = 15 & \square - 6 = 12 \end{array}$$

二、连一连。(8 分)



家长签字:

教师评语:

三、选择。(6 分)

1. 果园大丰收了,明明摘了 14 个 ,英

英摘了 12 个 ,明明吃了 6 个,明明

还有()个 。

- ①6 ②10 ③8

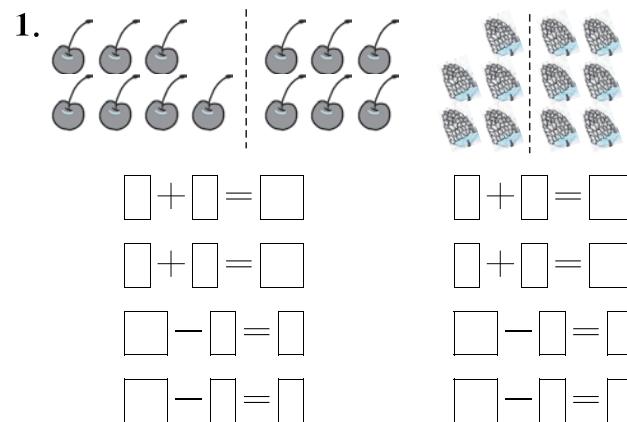
2. $6 + \square > 12$, \square 里最小可以填()。

- ①6 ②7 ③8

3. 张奶奶家养了 12 只鸡,8 只鸭,她再买()只鸭,就跟鸡一样多。

- ①3 ②4 ③20

四、看图列式。(12 分)



$$\begin{array}{ll} \square + \square = \square & \square + \square = \square \\ \square + \square = \square & \square + \square = \square \\ \square - \square = \square & \square - \square = \square \\ \square - \square = \square & \square - \square = \square \end{array}$$

2.

16片

$\square \bigcirc \square = \square$ (片)

?人 7人

15人

$\square \bigcirc \square = \square$ (人)

五、填表。(6分)

原有	13 辆	() 个	16 个
卖出	6 辆	3 个	() 个
现有	() 辆	8 个	5 个

六、解决问题。(4+3+9+12=28分)

1.

11个 7个

左边比右边多多少个?

$\square \bigcirc \square = \square$ (个)

2.

足球场上共有13个足球。

踢进了5个。

还有多少个球没踢进去?

$\square \bigcirc \square = \square$ (个)

3. (1)

14人参加比赛。

现在来了5人。

小明

还有多少人没有来?

$\square \bigcirc \square = \square$ (人)

(2) 爷爷养了 11 头牛, 奶奶养了 7 只鸭, 8 只鸡。

① 鸡和鸭共有多少只?

$\square \bigcirc \square = \square$ (只)

② 水牛有 2 头, 其余的都是黄牛, 黄牛有多少头?

$\square \bigcirc \square = \square$ (头)

4. (1)

?根

15根

一共有()根, 左边有()根, 右边有多少根?

$\square \bigcirc \square = \square$ (根)

(2)

?支

12支

原来有()支, 拿出()支, 盒子里还剩多少支?

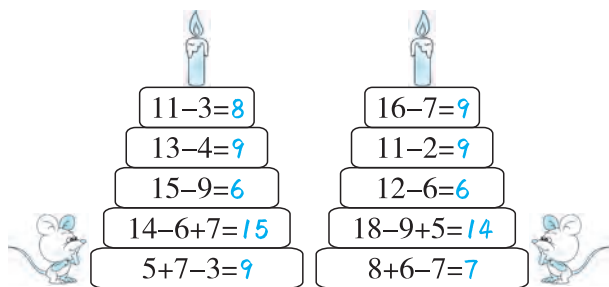
$\square \bigcirc \square = \square$ (支)

第一单元自测卷

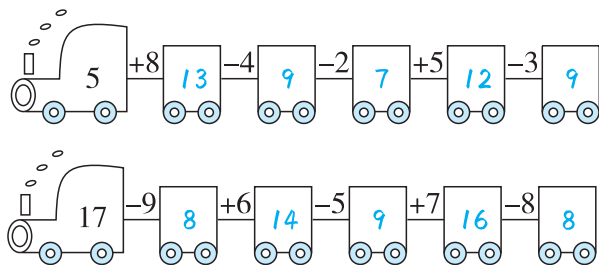
(时间:40 分钟 满分:100 分)

一、填一填。(每空 1 分,共 40 分)

1. 小老鼠上烛台。



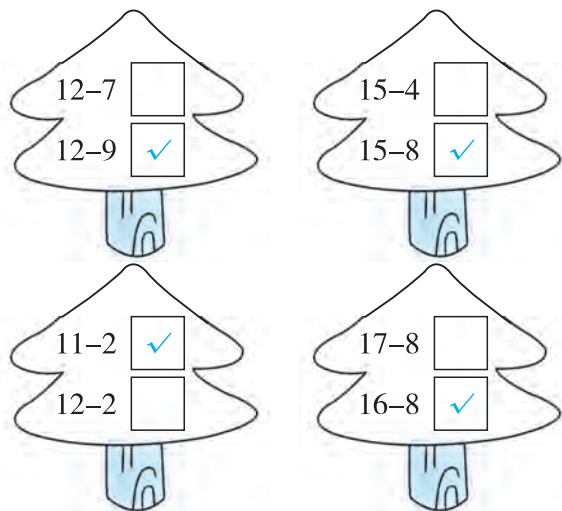
2. 开火车。



3. 在 ○ 里填“ $>$ ”“ $<$ ”或“ $=$ ”号。

$$\begin{array}{ll} 11-4 < 8 & 15-6 > 7 \\ 5 < 17-9 & 16-7 > 14-9 \\ 6 = 13-7 & 14-9 = 12-7 \end{array}$$

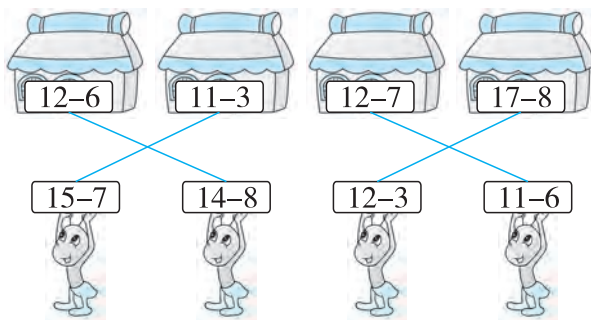
4. 在每组得数小的算式后面打“ \checkmark ”。






5. 在 \square 里填上适当的数。

$$\begin{array}{ll} 9 + \square = 12 & 15 - \square = 7 \\ \square + 7 = 14 & \square - 2 = 7 \\ 8 + \square = 15 & \square - 6 = 12 \end{array}$$

二、连一连。(8 分)



三、选择。(6 分)

1. 果园大丰收了,明明摘了 14 个 , 英英摘了 12 个 , 明明吃了 6 个, 明明还有 (③) 个 .

① 6 ② 10 ③ 8

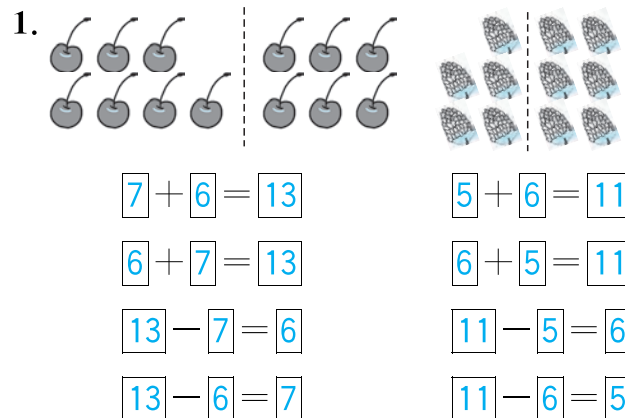
2. $6 + \square > 12$, \square 里最小可以填 (②)。

① 6 ② 7 ③ 8

3. 张奶奶家养了 12 只鸡, 8 只鸭, 她再买 (②) 只鸭, 就跟鸡一样多。

① 3 ② 4 ③ 20

四、看图列式。(12 分)



2.

16片

$$16 - 9 = 7 \text{ (片)}$$

15人

$$15 - 7 = 8 \text{ (人)}$$

五、填表。(6分)

原有	13 辆	(11) 个	16 个
卖出	6 辆	3 个	(11) 个
现有	(7) 辆	8 个	5 个

六、解决问题。(4+3+9+12=28分)

1.

11个 7个

左边比右边多多少个?

$$11 - 7 = 4 \text{ (个)}$$

2.

足球场上共有13个足球。

踢进了5个。

$$13 - 5 = 8 \text{ (个)}$$

3. (1)

14人参加比赛。

现在来了5人。

小明

$$14 - 5 = 9 \text{ (人)}$$

还有多少人没有来?

(2) 爷爷养了 11 头牛, 奶奶养了 7 只鸭, 8 只鸡。

① 鸡和鸭共有多少只?

$$7 + 8 = 15 \text{ (只)}$$

② 水牛有 2 头, 其余的都是黄牛, 黄牛有多少头?

$$11 - 2 = 9 \text{ (头)}$$

4. (1)

15根

$$15 - 8 = 7 \text{ (根)}$$

一共有 (15) 根, 左边有 (8) 根, 右边有多少根?

$$15 - 8 = 7 \text{ (根)}$$

(2)

12支

$$12 - 5 = 7 \text{ (支)}$$

原来有 (12) 支, 拿出 (5) 支, 盒子里还剩多少支?

$$12 - 5 = 7 \text{ (支)}$$